

En visite avec la Baronne de Meillonas



Dans ce cher Meillonas,
au dix-huitième siècle,
je m'amuse à écrire, rimer, peindre,
dessiner, alors que mon époux
Gaspar Constant Hugues de Marron
sait attirer de très habiles maîtres faïenciers
pour développer sa manufacture installée au
rez-de-chaussée de notre château.
Promenez-vous dans ce village;
vous y découvrirez l'histoire du château
et de sa manufacture,
quelques reproductions de nos belles faïences
et aussi les chapelles
de notre église qui abritent
des "peintures à fresque" remarquables.
Vous rencontrerez sans doute
des hommes que je n'ai pas connus,
des oeuvres décoratives
que je n'ai pu apprécier...
Ouvrez vos yeux, regardez avec attention...
et répondez aux questions posées.
Vous connaîtrez ainsi un peu mieux
ce charmant village
où je rassemblais mes amis pour leur lire mes oeuvres littéraires.
Il paraît que les jaloux
avaient baptisé mon cercle d'auditeurs "l'académie des ânes"!
Bonne promenade et ne m'oubliez pas!...

Le jeu

Départ : parking du pré de la cour.
Temps : 1h30-2h00

Ce jeu est un complément du dépliant
« Meillonas : sur les pas des ... maîtres faïenciers »






Vous entrez sur les terres du baron de Meillonas...

1 - question « fil rouge » (aidez vous de ce symbole il vous indique l'endroit où trouver une plaque)

Au cours de votre exploration, vous allez découvrir des plaques de rue en « faïence de Meillonas » décorées de motifs particuliers.

Détails des plaques de rue :



Retrouvez le numéro des rues ou places suivantes :

A. Rue du Lavoir :	...	F. Place du Château :	...
B. Rue des anciens Combattants :	...	G. Rue de l'Ancienne Faïencerie :	...
C. Rue de l'Eglise :	...	H. Rue des Colombages :	...
D. Rue A.M Carrelet :	...	I. Place de la Mairie :	...
E. Rue Roger Vailland :	...		

Déchiffrez le code : **L**Aver **VO**Irie Rue. 🐉

②. A l'aide du dépliant « *Meillonas sur les pas des maîtres faïenciers* », dirigez-vous vers cet édifice et retrouvez le siècle de sa construction :

- 1) XVIe 2) XVIIe 3) XVIIIe 4) XIXe

Remontez la rue sur votre droite jusqu' à la route, puis traversez le carrefour. Prudence en traversant ! 🐉🐉

③. Allez jusqu' à l'église, faites en le tour et comptez le nombre de vitraux : _ _ _ _

(Panneau A)

④. L'église possède un clocher décalé par rapport à son entrée. Pourquoi à votre avis ?

- 1) C'est une erreur de l'architecte
2) C'est une ancienne tour
3) C'est une reconstruction après un incendie



⑤. Question optionnelle !

Si l'église est ouverte, le baron de Meillonas vous invite à découvrir l'intérieur. Mais attention, le silence est de rigueur !

Pour trouver la question remettez les lettres de chaque mot dans le bon ordre :

E	A	F	R	E
M	S	E	I	S
E	E	P	N	Q
V	R	U	T	U
I	X	U	D	E

(Indice : jeu de escargot)

leuq tse el rosert ed esilgé'l ed sannollieM ?

⑥ « Au pied du mur, l'artiste » a peint un décor aujourd'hui classé Monument Historique.

Le style des peintures est d'inspiration :

1) Autrichienne

2) Espagnole

3) Italienne

*Au sortir de l'église, trouvez la rue **Anne-Marie Carrelet**. ☞*

⑦. Qui était cette personne ?

1) L'épouse d'un carreleur

2) L'épouse du baron de Meillonas

3) La 1^{ère} femme maire de la commune

*Prenez la rue **Roger Vailland**. ☞
(Panneau B)*

⑧. Combien d'années Roger Vailland a-t-il vécu à Meillonas ?

1) 9 ans

2) 11 ans

3) 13 ans

⑨. Quel prix littéraire a obtenu cet écrivain en 1957 ?

Pour quelle œuvre ?

1) César

2) 7 d'or

3) Prix Goncourt

4) Bon pied bon oeil

5) La loi

6) 325 000 frs

Continuez vers la place du château. ☞

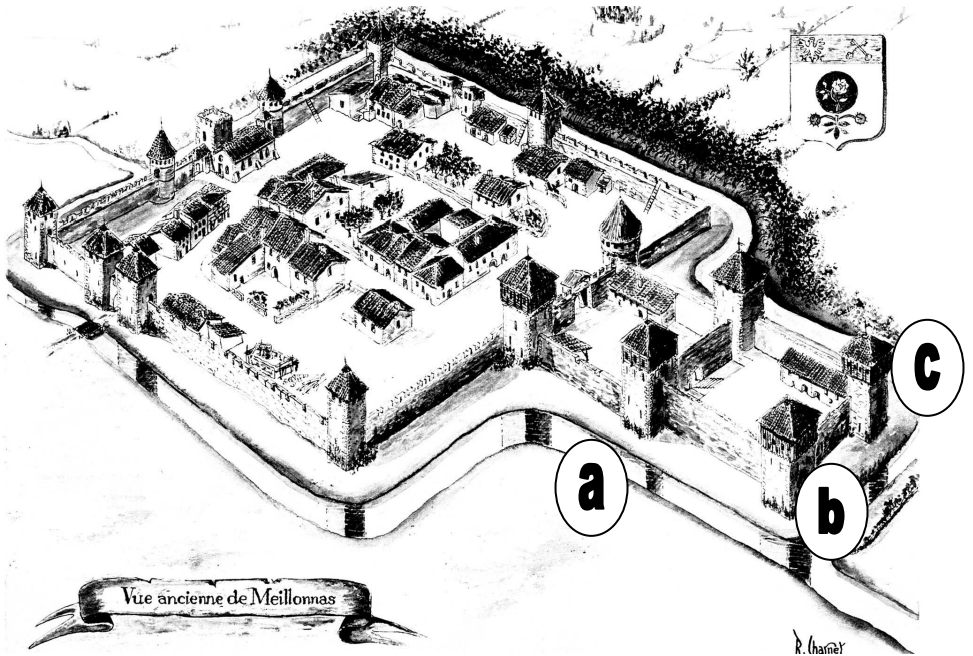


1 0. Le dessin ci-dessous représente le village de Meillonas au Moyen-Âge, Seules 3 tours subsistent ; sur quelle tour se trouve le panneau « Château de Meillonas » ?

1 - A

2 - B

3 - C



Au nord du château se dresse une sculpture de pierre.

1 1. Quel est son nom ? -----
Quel est le nom du sculpteur ? -----

1 2. La tradition de la poterie à Meillonas remonte à l'époque gallo-romaine.

Trouvez la terre qu'utilisaient les artisans pour la fabrication de la faïence :

1) Le limon 2) l'argile 3) La marne

(Panneau C)

1 3. Quel est le motif floral le plus représentatif de la faïence de Meillonas au XVIIIème siècle ?

1 4. Ces éléments interviennent dans la fabrication de la faïence de Meillonas sauf deux, lesquels ?



1) le sable

2) le plomb


3) le cuivre

4) l'étain

5) le fer

6) le sel

(Panneau D)

1 5. Trouvez cet élément de construction.
Quel est son véritable nom ? 

1) Meurtrière

2) Oubliette

3) Latrine



1 6. La Terre de Meillonas fut donnée par le Comte de Savoie à Jean de Corgenon en :

pour le découvrir déchiffrez le code :



$\triangle = 5$ $\square = 2$ $\star = 1$ $\circ = 3$

1 7. Humbert de Corgenon, fils de Jean, a bâti le château en :

1) 1280

2) 1350

3) 1420

1 8. En 1794, le baron de Meillonas fut :

1) décoré à Paris pour ses services

2) décapité à Lyon lors de la Terreur

3) nommé faïencier du roi de France

Descendez la rue de l'église et prenez la rue des Colombages. ☞

1 9. Qu'appelle-t-on « maison à colombages » ?

1) un élevage de colombes

4) une maison en travaux

2) un cercle d'anciens colons

5) une maison à 2 étages

3) une maison à pans de bois

2 0. Trouvez cette façade et découvrez les 7 erreurs de la photo :



Descendez la rue des Colombages, traversez la route et pénétrez dans le parc.



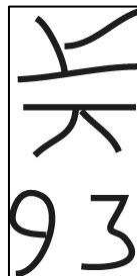
Vous pouvez vous asseoir dans le petit pavillon aux tuiles vernissées.

2 1. Pour trouver son nom exact prenez la première lettre de chaque nom des végétaux suivants :

ginko biloba - ulmaire - érable - tilleul - acacia - laurier - if.

2 2. Retrouvez une sculpture moderne réalisée par un artiste ayant séjourné à Meillonas. Elle porte cette inscription.

Quel est le nom du sculpteur et celui de l'œuvre exposée ?



Empruntez le chemin jusqu'au petit pont en bois. Franchissez cette rivière qui prend sa source derrière la montagne de Meillonas.

2 3. Quel est le nom de cette rivière ?
pour le découvrir déchiffrez le code :

36 1484515 : 35 258197

L : 3 A : 6 R : 1 I : 4
V : 8 S : 2 O : 9 N : 7 E : 5





Guide édité par :
OFFICE DE TOURISME BRESSE - REVERMONT

mercredi 11 janvier 2006

REPONSES

❶ A : 9 – B : 4 – C : 5 – D : 3 – E : 8 – F : 7 – G : 2 – H : 1 – I : 6. ❷ 4. ❸ 8. ❹ 2. ❺ 5
 Quel est le trésor de Meillonas ? Peintures à fresque du XIVème. ❻ 3. ❽ 2. ❿ 8. 2.
 ⓫ 3 et 5. ⓬ 0 A. ⓭ 1 Fleur de pierre. Ivan Avoscan. ⓮ 2 2. ⓯ 3 La rose. ⓰ 4 3
 et 5. ⓱ 5 3. ⓲ 6 1325. ⓳ 7 2. ⓴ 8 2. ⓵ 9 3. ⓶ 0 regardez la photo ci-dessous
 ⓷ 1 guétali : petit pavillon de style colonial situé à l'angle d' une propriété,
 permettant d'observer sans être vu. ⓸ 2 sculpteur : Costa Coulentianos. Œuvre
 Génération IX « Cannes ». ⓹ 3 La rivière : le Sevron.

